



evropský
sociální
fond v ČR



EVROPSKÁ UNIE



MINISTERSTVO ŠKOLSTVÍ,
MLÁDEŽE A TĚLOVÝCHOVY



OP Vzdělávání
pro konkurenceschopnost

INVESTICE DO ROZVOJE VZDĚLÁVÁNÍ

Určenost roviny

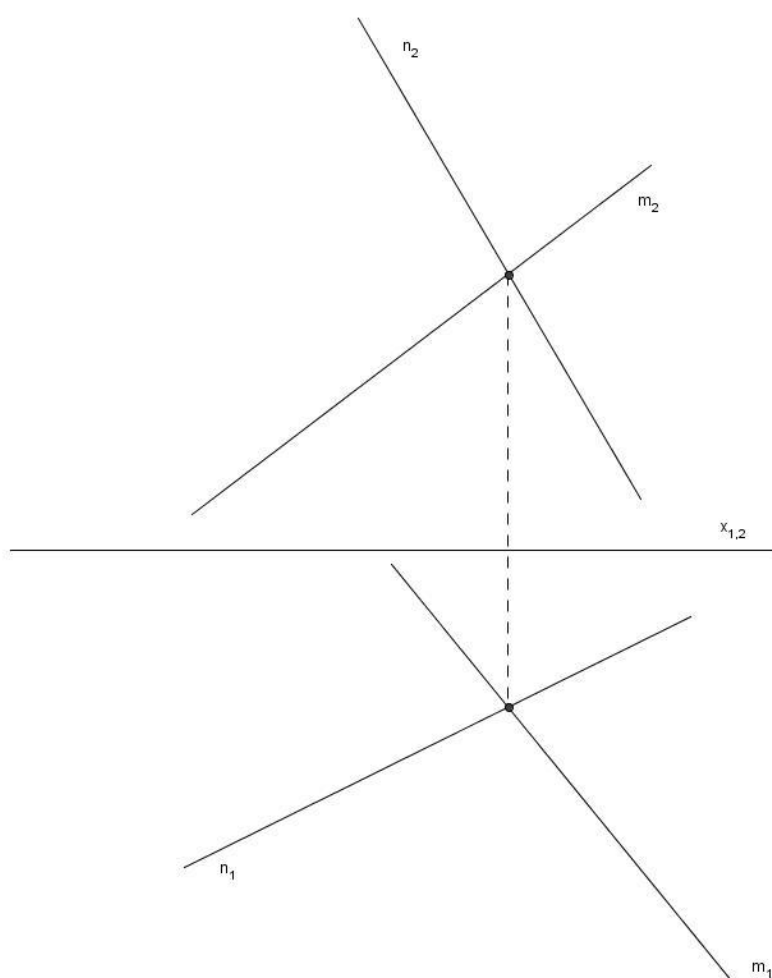
Autorem materiálu a všech jeho částí, není-li uvedeno jinak, je Martina Jarolímková.

Materiál je dostupný ze školního portálu <http://dum.voss-na.cz>, který provozuje
Vyšší odborná škola stavební a Střední průmyslová škola stavební arch. Jana Letzela, Náchod

Zadání

Sestrojte stopy roviny ρ určené:

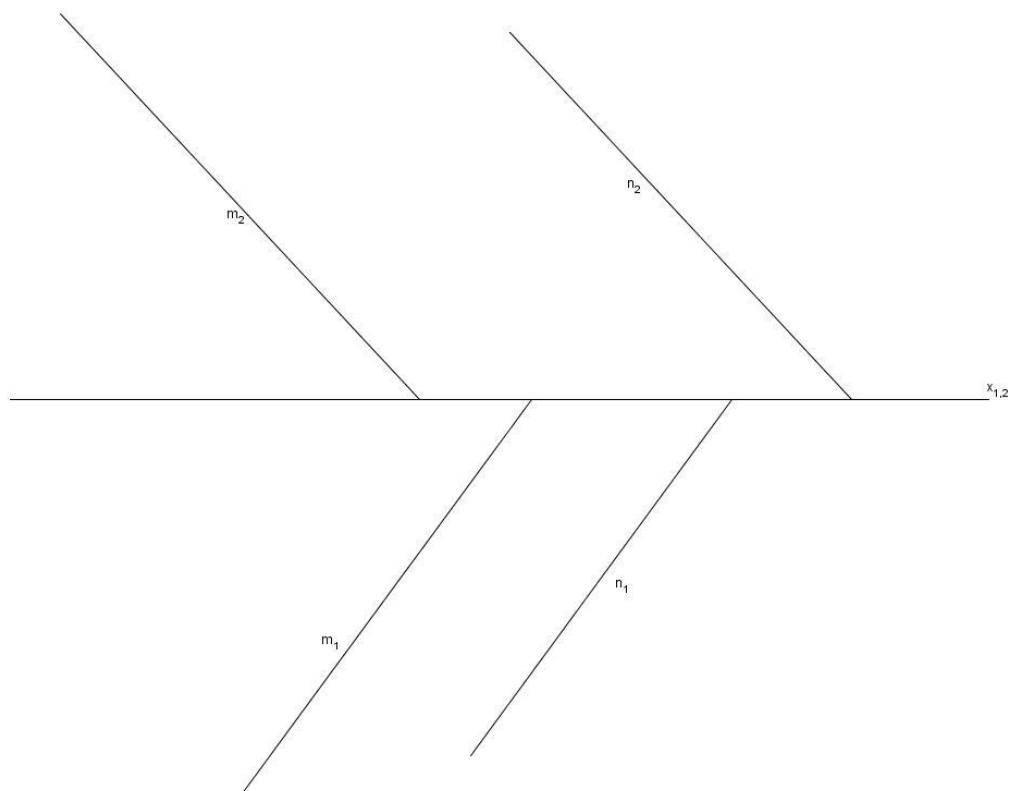
- 1) dvěma různoběžkami m, n



Autorem materiálu a všech jeho částí, není-li uvedeno jinak, je Martina Jarolímková.

Materiál je dostupný ze školního portálu <http://dum.voss-na.cz>, který provozuje
Vyšší odborná škola stavební a Střední průmyslová škola stavební arch. Jana Letzela, Náchod

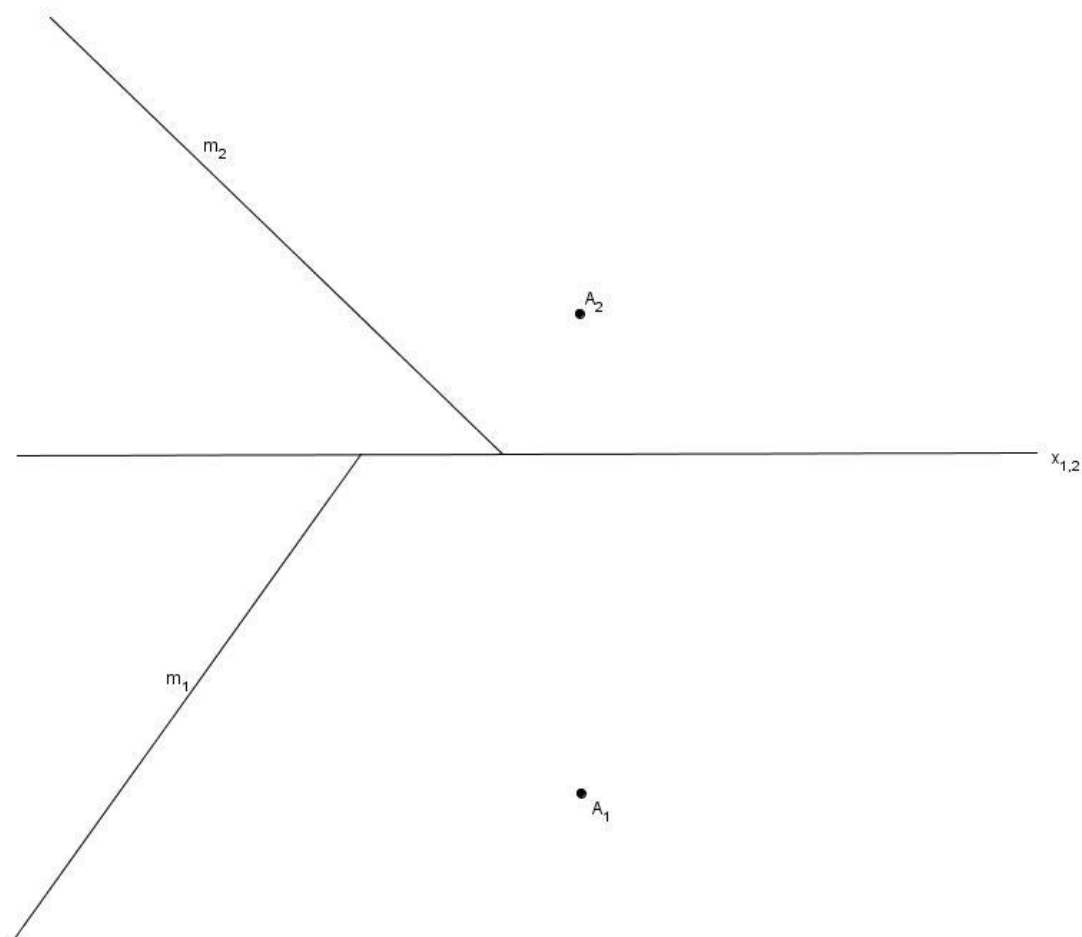
2) dvěma rovnoběžkami m, n



Autorem materiálu a všech jeho částí, není-li uvedeno jinak, je Martina Jarolímková.

Materiál je dostupný ze školního portálu <http://dum.voss-na.cz>, který provozuje
Vyšší odborná škola stavební a Střední průmyslová škola stavební arch. Jana Letzela, Náchod


3) bodem A a přímkou m



Autorem materiálu a všech jeho částí, není-li uvedeno jinak, je Martina Jarolímková.

Materiál je dostupný ze školního portálu <http://dum.voss-na.cz>, který provozuje
Vyšší odborná škola stavební a Střední průmyslová škola stavební arch. Jana Letzela, Náchod

4) třemi body A , B , C



Autorem materiálu a všech jeho částí, není-li uvedeno jinak, je Martina Jarolímková.

Materiál je dostupný ze školního portálu <http://dum.voss-na.cz>, který provozuje
Vyšší odborná škola stavební a Střední průmyslová škola stavební arch. Jana Letzela, Náchod